

## 1. Pommes (Approcher des quantités et des nombres)

Madame Pomine a 8 pommes dans son panier.  
Arthur veut autant de pommes que Léo (pas plus, pas moins).  
Greg s'en moque, il veut bien en avoir plus ou moins que ses amis.




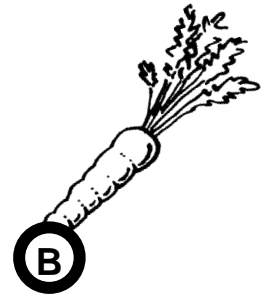

**Combien de pommes Madame Pomine va-t-elle donner à Arthur, Léo et Greg ?  
Expliquez votre réponse.**



## 2. A table (découvrir des formes et des grandeurs)

Chaque jour Jeannot Lapin part manger une carotte.  
Le premier jour, il commence par la plus proche de son terrier, et s'éloigne de plus en plus chaque jour.


**Dans quel ordre Jeannot mange-t-il les carottes ?  
Expliquez comment vous avez fait pour répondre ?**





#### 4. Tricolore (Organisation et gestion de données)

On dispose de trois crayons de couleur différente : rouge, bleu, jaune



**Coloriez la grille sans mettre deux couleurs identiques sur la même ligne ou sur la même colonne.**

**Trouvez toutes les grilles que l'on peut faire.**

|  |  |  |
|--|--|--|
|  |  |  |
|  |  |  |
|  |  |  |